

Globalverhalten ganzrationaler Funktionen

Wenn man nun das Globalverhalten von ganzrationalen Funktionen betrachtet, dann stellt sich folgende Frage. Welcher der Faktoren innerhalb einer ganzrationalen Funktion hat den größten Einfluss auf das Endergebnis. Also den Wert für $f(x)$?

$$f(x) = a_n x^n + a_{n-1} x^{n-1} + \dots + a_1 x + a_0 \quad \text{mit} \quad n \in \mathbb{N}; a_i \in \mathbb{R} \text{ und } a_n \neq 0$$

Dies ist immer der Faktor x^n , also das Glied mit dem höchsten Exponenten. Er spielt die dominanteste Rolle im Zusammenspiel mit seinem Begleiter, dem Koeffizienten a_n . Daher wird der Koeffizient des Gliedes mit dem höchsten Exponenten a_n auch Leitkoeffizient genannt.

Da in der Mathematik eine Behauptung (mathematisches Zeichen "!") erst dann als wahr gilt wenn sie auch bewiesen wurde, folgt hier nun der mathematische Beweis.

Behauptung:

$$\lim_{x \rightarrow +\infty} f(x) \xrightarrow{!} +\infty$$

Beweis der Behauptung:

$$f(x) = 3x^3 - 5x^2 + 2 \quad | \quad \text{Ausgangsfunktion}$$

$$\lim_{x \rightarrow +\infty} (3x^3 - 5x^2 + 2) \quad | \quad \text{Globalverhalten / Prozessverhalten}$$

$$\lim_{x \rightarrow +\infty} 3x^3 \left(1 - \frac{5x^2}{3x^3} + \frac{2}{3x^3}\right) \quad | \quad 3x^3 \text{ ausklammern}$$

$$\lim_{x \rightarrow +\infty} (3x^3 - 5x^2 + 2) = \lim_{x \rightarrow +\infty} 3x^3 \left(1 - \frac{5x^2}{3x^3} + \frac{2}{3x^3}\right)$$

Läuft x gegen $+\infty$, dann tendiert der Bruch $\frac{5x^2}{3x^3}$ gegen Null.

Läuft x gegen $+\infty$, dann tendiert der Bruch $\frac{2}{3x^3}$ gegen Null.

$$\text{Es bleibt } \lim_{x \rightarrow +\infty} 3x^3(1 - 0 + 0) \Rightarrow +\infty * 1 \Rightarrow +\infty$$

Es kommt darum nur auf das Glied mit dem höchsten Exponenten (Glied x^n) und auf den Leitkoeffizienten (Glied a_n) an. Beide spielen die dominanteste Rolle.

Globalverhalten ganzrationaler Funktionen

Die Frage lautet:

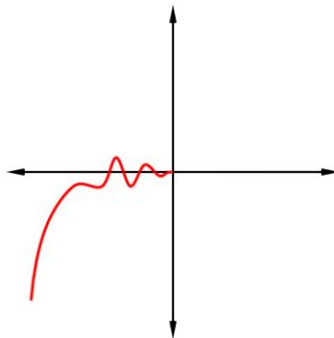
Wie wirkt sich Faktor x auf den Verlauf des Funktionsgraphen aus ?

Also was passiert mit y , wenn x zuerst von $-\infty$ nach 0 und dann gegen $+\infty$ läuft ?

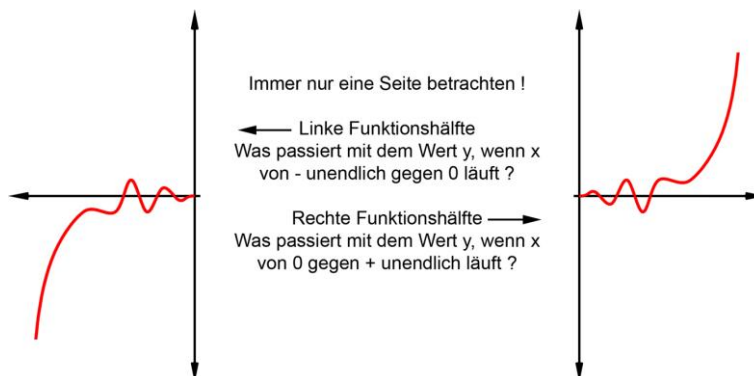
$$f(x) = 3x^3 - 5x^2 + 2$$

Der Prozess um herauszufinden was mit y geschieht, sieht demnach wie folgt aus...

1. Dominierend sind der Leitkoeffizient a_n und x^n , also der Term $+3x^3$
2. Jetzt für x negative Werte einsetzen, um x von $-\infty$ gegen 0 laufen zu lassen.
 $+3x^3 \Rightarrow +3(-5)^3 = -125$
 $+3x^3 \Rightarrow +3(-2)^3 = -24$
3. Tendenz \rightarrow Der Wert für y wird immer größer, wenn x von $-\infty$ gegen 0 läuft.
4. Ist der Leitkoeffizient a_n positiv oder negativ ? Steigt der Graph oder fällt er ?
Der Leitkoeffizient a_n ist positiv, das Ergebnis für y ändert sich also nicht.



Verlauf des Graphen wenn x von $-\infty$ nach 0 läuft
(Läuft x von $-\infty$ nach 0 , dann wird der Wert für y immer größer)



Getrennte Betrachtung einer Gesamtfunktion
Verlauf des Graphen wenn x zuerst von $-\infty$ nach 0 und dann gegen $+\infty$ läuft

Globalverhalten ganzrationaler Funktionen

Wie beim Potenzieren auch, bestimmt so das Vorzeichen des Leitkoeffizienten a_n und der Grad des Exponenten x^n , ob das Ergebnis für den Y-Wert einer Funktion positiv oder negativ wird. Die folgende Übersicht zeigt den Einfluss beider Faktoren auf den Verlauf einer Funktion.

$a_n \backslash n$	n gerade	n ungerade
$a_n +$	nach oben geöffnet	von unten nach oben
$a_n -$	nach unten geöffnet	von oben nach unten

Tabelle für das Globalverhalten der Funktionskurve

Positive Werte für $f(x)$ bedeuten für einen Funktionsgraphen, dass die Kurve immer weiter ansteigen wird. Wird x größer, wird y auch größer und der Graph steigt. Die Kurve zeigt nach oben.

Negative Werte für $f(x)$ bedeuten für einen Funktionsgraphen, dass die Kurve immer weiter fallen wird. Wird x kleiner, wird y auch kleiner und der Graph fällt. Die Kurve zeigt nach unten.

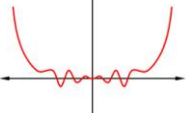
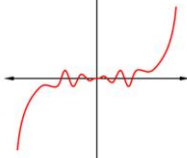
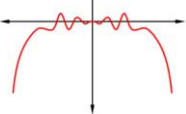
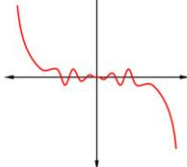
$a_n \backslash n$	n gerade	n ungerade
$a_n +$		
$a_n -$		

Tabelle für das Globalverhalten der Funktionsgraphen

Dieser Text zum Thema Globalverhalten ganzrationaler Funktionen wurde von Dirk Kipper angefertigt. Er darf ohne meine schriftliche Genehmigung weder vervielfältigt noch in irgendeiner anderen Form vertrieben werden. Auch ein Abdruck, selbst auszugsweise ist nur mit meiner vorherigen schriftlichen Genehmigung gestattet.

Mail: dirkkipper777@hotmail.com

Web: <http://www.dirkkipper.de/>

Dirk Kipper